

Числа 1-6

Дополни до 6.



$3 + \square = 6$

$4 + \square = 6$

$5 + \square = 6$

$2 + \square = 6$

Составь выражение.

$1 + \square = 6$

$\square + \square = 6$

$\square + \square = 6$

$\square + \square = 6$

Числа 1-7

Дополни буквами до 7 цветков и впиши следующее.

$4 + \square = 7$

$6 + \square = 7$

$3 + \square = 7$

$2 + \square = 7$

Зачеркни нужное число радков и впиши ответ.

$7 - 2 = \square$

$7 - 4 = \square$

$7 - 5 = \square$

$7 - 1 = \square$

Девять



9

Посчитай, нарисуй точки на домино и напиши число.



7



семь



—

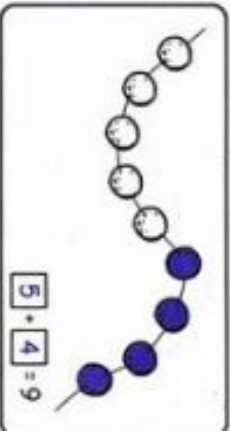


—

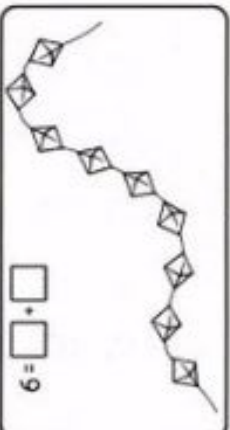


—

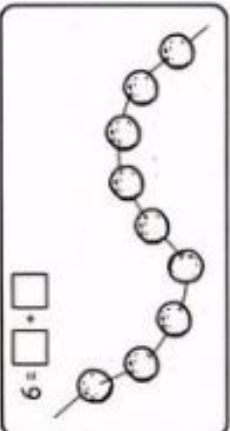
Раскрась несколько бусинок и составь равенство.



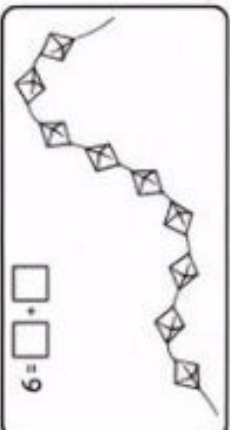
$$\boxed{5} + \boxed{4} = 9$$



$$\boxed{} + \boxed{} = 9$$



$$\boxed{} + \boxed{} = 9$$




$$\boxed{} + \boxed{} = 9$$










Десять

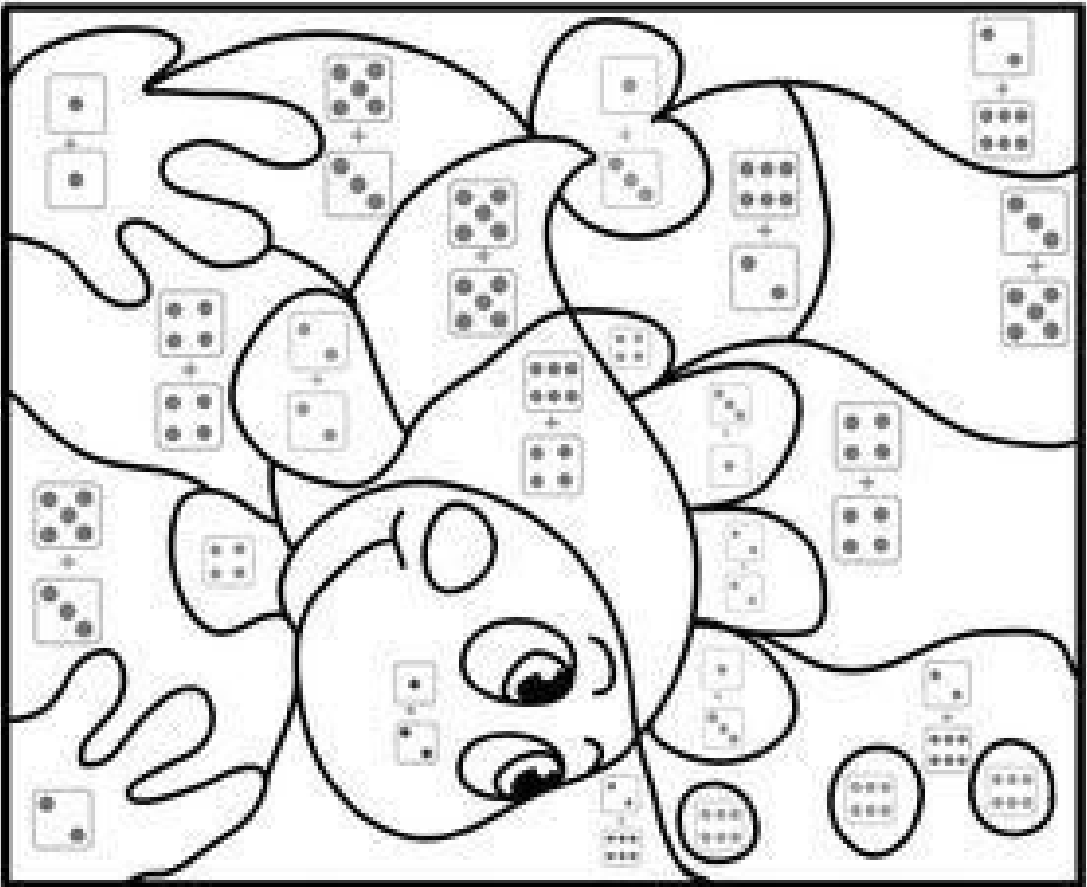


1 2 3 4 5 6 7 8 9 10




Раскрась фигуры из 10 квадратов.






- 4
- 3
- 2
- 8
- 10
- 6



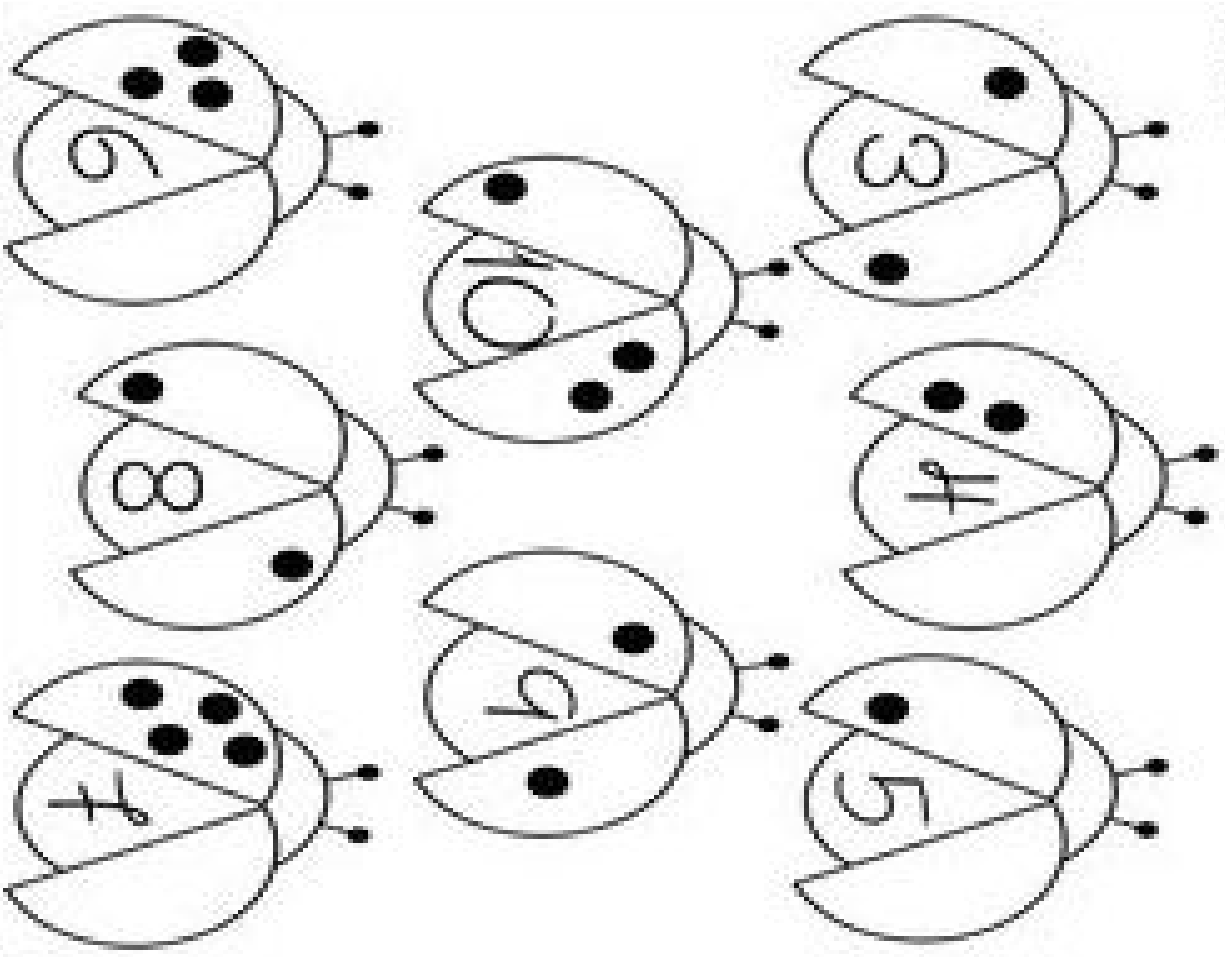
Скільки років вам? Намалюйте свій вік. Використайте кольорові кружечки.



- 2
- 4
- 6
- 5
- 9



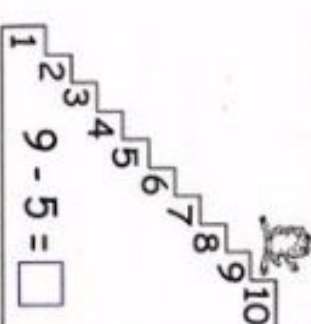
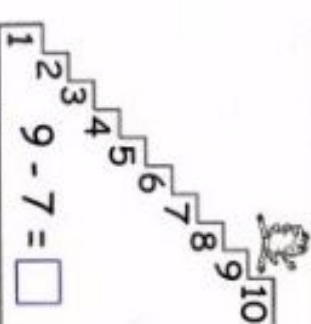
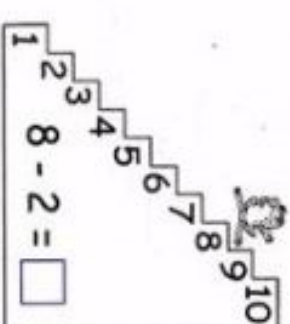
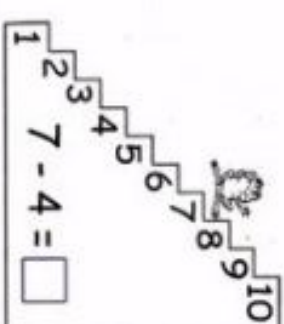
Dessin imprimé sur www.mondedespetits.fr - Usage personnel uniquement - Reproduction interdite



Обратный счёт



Посчитай, на какой ступеньке лягушка остановится.



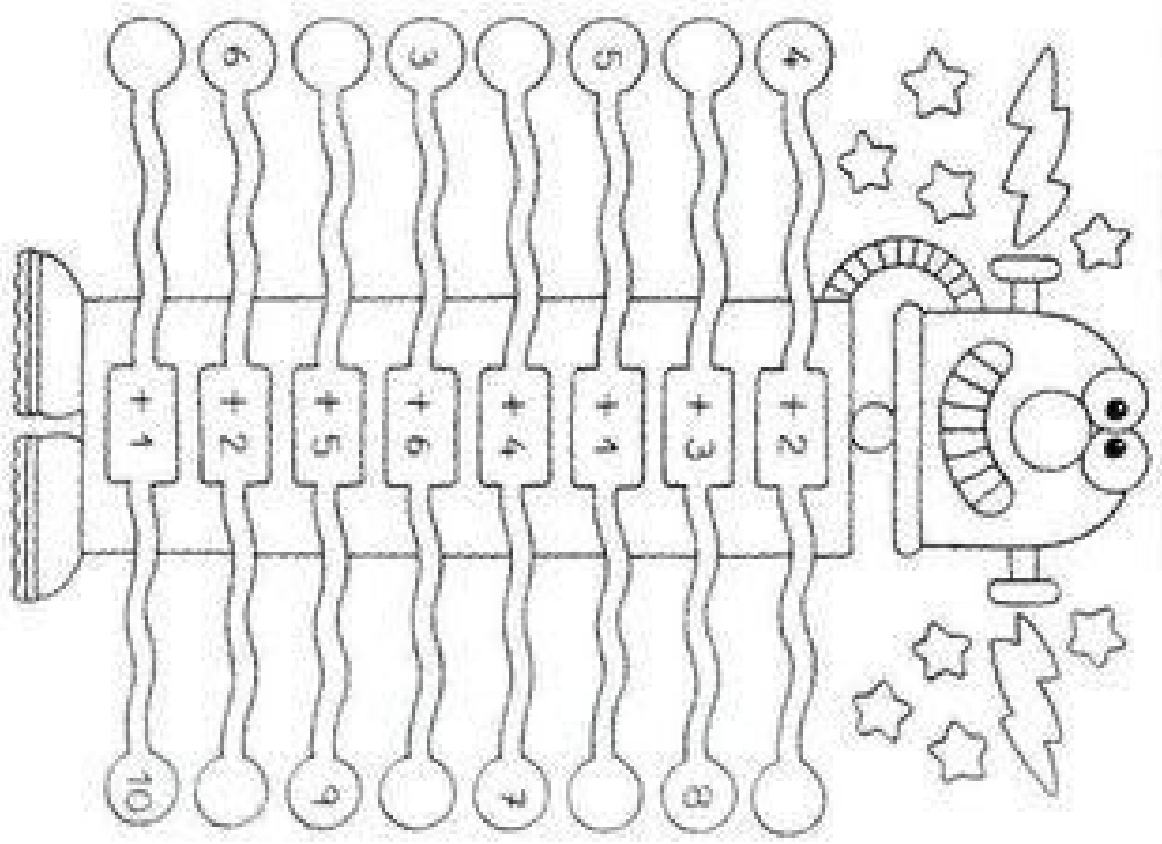
4
8
3
9

6
10
5
7

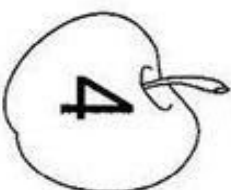

Вставь пропущенные числа в равенствах.

- | | | | |
|-------------------|-------------------|-------------------|-------------------|
| $5 - 4 = 1$ | $9 - 3 = \square$ | $9 - \square = 5$ | $8 - \square = 1$ |
| $6 - 2 = \square$ | $8 - 4 = \square$ | $7 - \square = 3$ | $9 - \square = 2$ |
| $8 - 7 = \square$ | $7 - 1 = \square$ | $9 - \square = 4$ | $7 - \square = 5$ |
| $9 - 1 = \square$ | $8 - 3 = \square$ | $6 - \square = 3$ | $5 - \square = 2$ |


LES POISSONS QUI SAUT SUSSANT
• COMPLETTE LES NOMBRES QUE LE POISSON A SAUTÉ.



К каким яблокам ползут гусеницы?



10



$4 + 5$

$2 + 6$

$3 + 4$

$9 + 1$

$1 + 6$

$8 + 2$

$2 + 7$

$6 + 2$

$4 + 4$

$2 + 5$

$6 + 4$

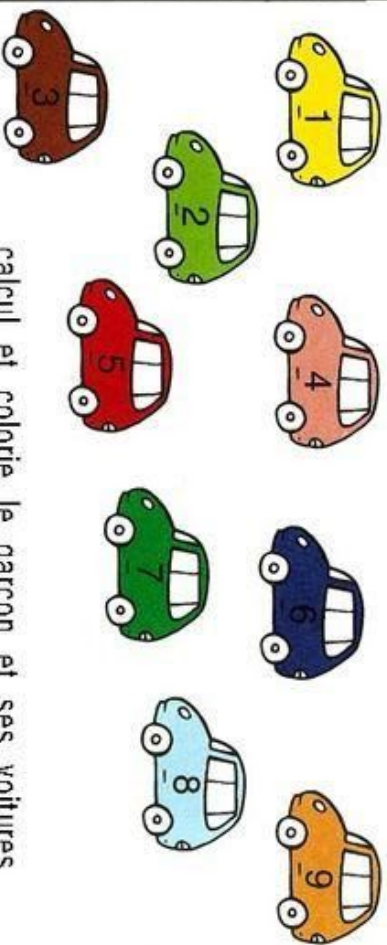

$5 + 4$

$3 + 7$

$1 + 8$

$5 + 3$

$4 + 3$



calcul et colorie le garçon et ses voitures